

Matematik

Delprov B

Årskurs

3

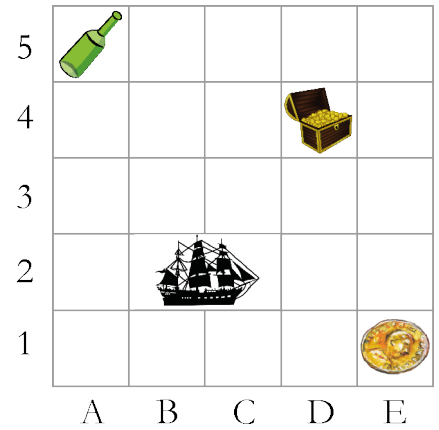
Elevens namn och klass/grupp

1. Guldpengen finns i ruta E1.

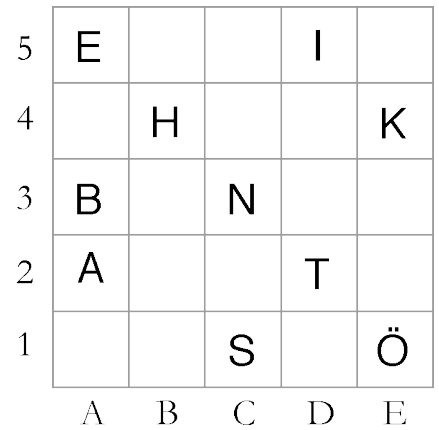
I vilken ruta finns skattkistan? _____

I vilken ruta finns flaskan? _____

I vilka två rutor finns båten? _____



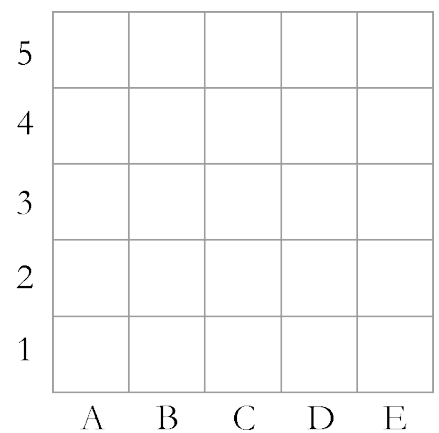
2. Här är ett hemligt meddelande.
Hjälp Nova att lösa meddelandet.



3. Rita en penna  i ruta B2.

Rita ett hjärta  i ruta D5.


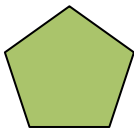
Rita ett kryss **X** i ruta E1.



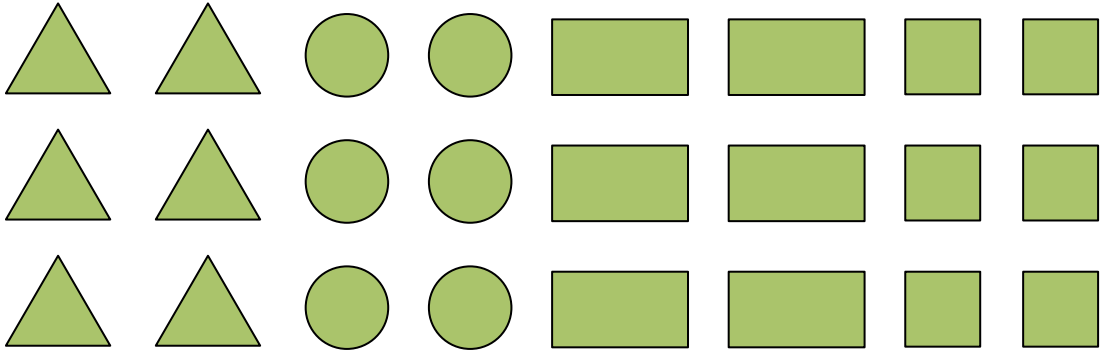
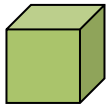
4. Beskriv en triangel.

5. Beskriv en rektangel.

6. Vilka är **skillnaderna** mellan de här två geometriska objekten?



7. Ringa in *alla* de geometriska objekt som du behöver för att bygga en kub som ser ut så här:



8. Ringa in *alla* de geometriska objekt som du behöver för att bygga ett rätblock som ser ut så här:

