

## Tal på olika sätt


1. David och Nadja använder miniräknaren. Skriv med siffror de tal som David läser för Nadja:

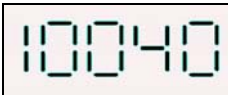
a) tvåtusensex \_\_\_\_\_


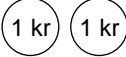


b) femtontusenåttio \_\_\_\_\_

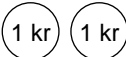



2. Skriv med ord följande tal som visas i miniräknarens fönster?

a)  \_\_\_\_\_

b)  \_\_\_\_\_

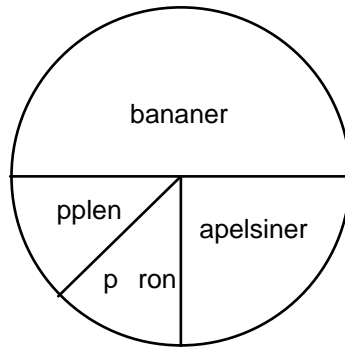
c)  \_\_\_\_\_

3.	Du har	Du får	Sedan har du
exempel	456 kr		_____ 459 kr
a)	4 299 kr		_____ kr
b)	3 592 kr		_____ kr
c)	2 947 kr		_____ kr

4.	Du har	Du betalar	Sedan har du
exempel	356 kr		_____ 354 kr
a)	2 100 kr		_____ kr
b)	6 804 kr		_____ kr
c)	5 025 kr		_____ kr

5. Lucas och Elin har gjort en fruktsallad av bananer, apelsiner, päron och äpplen till mellanmål.

Diagrammet visar hur stor del av antalet frukter som är bananer, apelsiner, päron och äpplen.



- a) Hur stor del av frukterna är apelsiner?
- b) Hur stor del av frukterna är päron?
- c) Använd diagrammet och skriv hur många apelsiner, päron och äpplen de använder till salladen för att antalen ska stämma med diagrammet.

  8   st bananer                                 st apelsiner

           st päron                                 st äpplen

- d) Gör ett förslag till som stämmer med diagrammet.

           st bananer                                 st apelsiner

           st päron                                 st äpplen

6. En skollunch kostar 7 kr per dag för en elev. Ungefär hur mycket kostar skollunchen under ett läsår för en elev som äter 190 luncher. Gör ett överslag och ringa in det bästa förslaget.

200 kr          700 kr          1 400 kr          7 000 kr

7. Vid lunchen pratar Frida, Patrik och Niklas om att hoppa längd. De jämför sina hopp.
- Jag hoppade 3,2 meter, säger Frida.
  - Mitt hopp var 3,26 meter, säger Niklas.
  - Och mitt 3,12 meter, säger Patrik.

Skriv de tre hoppen i ordning.

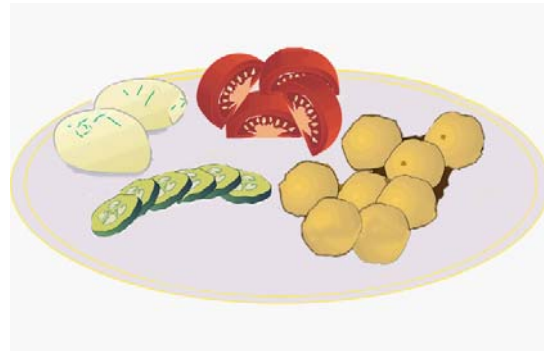
\_\_\_\_\_

kortast

\_\_\_\_\_

längst

8. På Adams tallrik finns det 8 köttbullar, 2 potatisar, 4 tomatbitar och 6 gurkskivor.



- a) En av följande meningar har blivit fel. Stryk under den.
- Det är hälften så många potatisar som tomatbitar.
  - Det är en fjärdedel så många tomatbitar som köttbullar.
  - Det är en tredjedel så många potatisar som gurkskivor.
- b) Byt ut ett ord i den felaktiga meningen så att den stämmer.
- c) Skriv en egen mening som stämmer med Adams tallrik. Använd ett av orden hälften, fjärdedelar eller tredjedelar.