

# Matematik

Delprov G

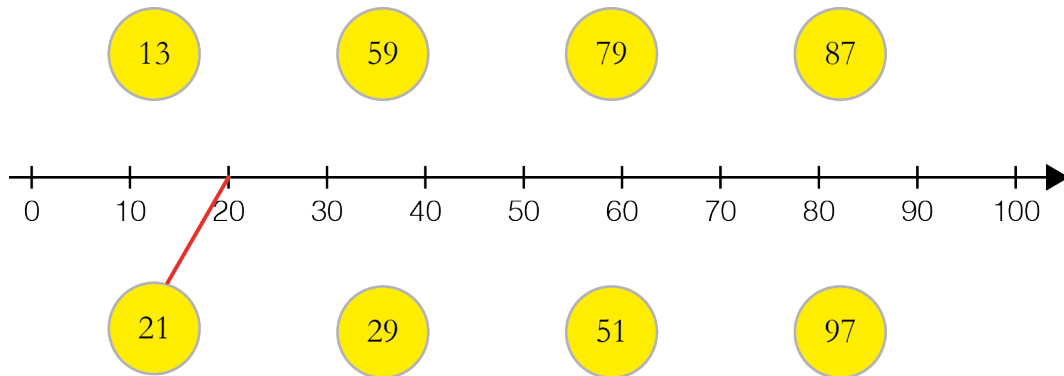
Årskurs

3

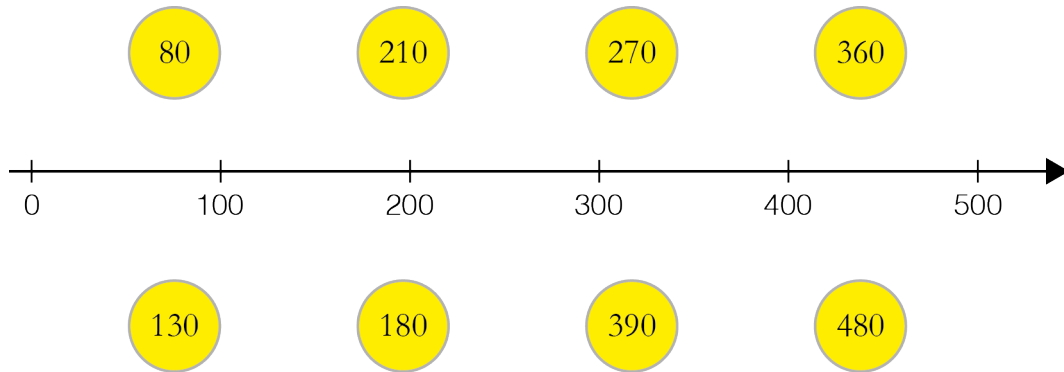
---

Elevens namn och klass/grupp

1. Dra streck till närmaste *tiotal* på tallinjen.



2. Dra streck till närmaste *hundra* på tallinjen.



3. Ett tal är närmast 70. Ringa in det.


76                      71                      67

4. Ett tal är närmast 20. Ringa in det.

24                      27                      18

5. Ett tal är närmast 100. Ringa in det.

97                      106                      95



6. a) Ungefär hur mycket kostar en *hjälms* och en *flaska* tillsammans?  
Ringa in ditt svar.

300 kr      350 kr      400 kr      450 kr      500 kr

- b) Ungefär hur mycket kostar en *pump* och ett *lås* tillsammans?  
Ringa in ditt svar.

300 kr      400 kr      500 kr      600 kr      700 kr

- c) Ungefär hur mycket kostar sex *korgar* tillsammans?  
Ringa in ditt svar.

450 kr      500 kr      550 kr      600 kr      650 kr

7. a)  $200 + 600 = \underline{\hspace{2cm}}$

b)  $14 + 7 = \underline{\hspace{2cm}}$

c)  $\underline{\hspace{2cm}} = 8 + 9$

d)  $12 + 50 = \underline{\hspace{2cm}}$

8. a)  $19 - 14 = \underline{\hspace{2cm}}$

b)  $101 - 99 = \underline{\hspace{2cm}}$

c)  $16 - 8 = \underline{\hspace{2cm}}$

d)  $\underline{\hspace{2cm}} = 14 - 5$

9. a)  $15 = \underline{\hspace{2cm}} + 8$

b)  $7 + 3 = \underline{\hspace{2cm}} + 4$

c)  $17 - \underline{\hspace{2cm}} = 10$

d)  $12 = \underline{\hspace{2cm}} - 5$