

Namn: \_\_\_\_\_


1. Lukas mäter saker med gem.



Gem



Rep



Klubba



Penna

- a) Hur många gem långt är repet? \_\_\_\_\_
- b) Vilken sak är 3 gem långt? \_\_\_\_\_
- c) Hur många gem längre är repet än pennan? \_\_\_\_\_


2. Vilken tid visar klockan?

a)



Svar: \_\_\_\_\_

b)



Svar: \_\_\_\_\_

3. Skolan börjar klockan 8. Efter en timme är det rast.



Hur mycket är klockan när rasten börjar?

Svar: \_\_\_\_\_

4. Klockan 11 är det lunchrast. Den är en halvtimme.



Hur mycket är klockan när lunchrasten är slut?

Svar: \_\_\_\_\_

5. Mira har 36 kulor och ger bort 13 kulor.  
Hur många kulor har Mira kvar?



Svar: \_\_\_\_\_

6.



Lukas köper en fotboll och ett hopprep.  
Hur mycket ska Lukas betala?



Svar: \_\_\_\_\_

7. Tea har 100 kronor. Hon handlar för 25 kronor.  
Hur många kronor har Tea kvar?




Svar: \_\_\_\_\_

8. Tea har 12 kulor. Sam har hälften så många.  
Hur många kulor har Sam?



Svar: \_\_\_\_\_

9. Sam köper 10 studsbollar. Varje studsboll kostar 3 kr.  
Hur mycket ska Sam betala?



Svar: \_\_\_\_\_

10. Rana, Mira och Sam har 15 äpplen.  
De ska dela lika.  
Hur många äpplen får de var?



Svar: \_\_\_\_\_