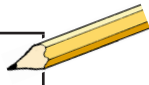


Namn: _____

1. Ringa in de 4 tal som är jämna.

5	8	10
23	27	
14	32	1

2. Skriv talens grannar.

Exempel	9	10	11	12	
---------	---	----	----	----	---

a)

		39	
--	--	----	--

b)

	70		
--	----	--	--

c)

	109		
--	-----	--	--

d)

199			
-----	--	--	--

3. Skriv talen i storleksordning. Börja med det minsta.

	46		19	
91		25		70
	63		52	

4. Räkna ut och skriv svar.

a) $5 + 4 =$ _____

f) $7 - 2 =$ _____

b) $2 + 8 =$ _____

g) $9 - 4 =$ _____

c) $4 + 8 =$ _____

h) $18 - 16 =$ _____

d) $9 + 5 =$ _____

i) $11 - 3 =$ _____

e) $8 + 8 =$ _____

j) $24 - 12 =$ _____

5. Räkna ut och skriv svar.

a) $4 \cdot 2 = \underline{\hspace{2cm}}$

c) $3 \cdot 3 = \underline{\hspace{2cm}}$

b) $3 \cdot 5 = \underline{\hspace{2cm}}$

d) $1 \cdot 8 = \underline{\hspace{2cm}}$

6. Skriv talet som saknas.

a) $8 = 4 + \underline{\hspace{2cm}}$

e) $8 - \underline{\hspace{2cm}} = 5$

b) $9 = \underline{\hspace{2cm}} + 7$

f) $\underline{\hspace{2cm}} - 8 = 1$

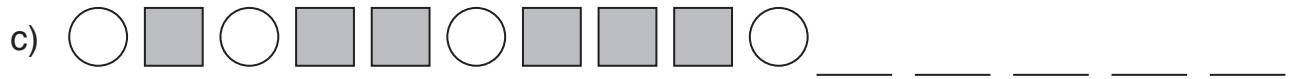
c) $\underline{\hspace{2cm}} = 3 + 4$

g) $16 = \underline{\hspace{2cm}} + 10$

d) $10 - \underline{\hspace{2cm}} = 4$

h) $26 + \underline{\hspace{2cm}} = 30$

7. Fortsätt på mönstren.




8. Titta på varje figur. Hur ska figur 4 se ut?
Rita den.



Figur 1



Figur 2



Figur 3

Figur 4

9. Här är ett mönster.
Vad saknas? Ringa in rätt förslag.

