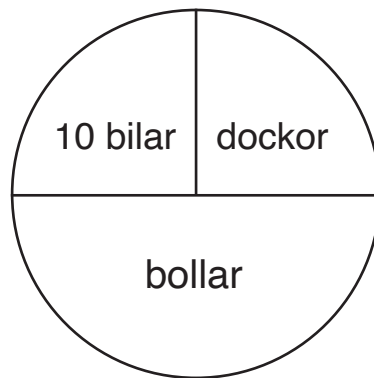


Namn: _____

1. På skolan finns olika leksaker. Det finns 10 bilar. Titta på cirkeldiagrammet och svara på frågorna.




- a) Hur många dockor finns det? _____
- b) Hur många bollar finns det? _____
- c) Hur många leksaker är det tillsammans? _____

2. Sam köper 3 böcker. Varje bok kostar 20 kr. Hur mycket ska Sam betala?



Svar: _____

3. Lukas, Anna och morfar kastar 3 ringar var.



I rutorna kan du se vilken slutpoäng de har fått.
Hur många poäng kan var och en ha fått vid varje kast?
Ge förslag och skriv dem på strecken.

	Kast 1	Kast 2	Kast 3	Slutpoäng
a) Lukas	_____	_____	_____	<input type="text" value="25"/>
b) Anna	_____	_____	_____	<input type="text" value="50"/>
c) Morfar	_____	_____	_____	<input type="text" value="60"/>

4. Mira har 46 kulor och ger bort 12 kulor.
Hur många kulor har Mira kvar?



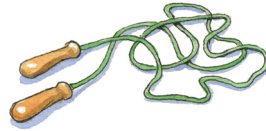
Svar: _____



22 kr



43 kr



15 kr

5. Lukas köper en fotboll och en bok.
Hur mycket ska Lukas betala?



Svar: _____

6. Tea har 100 kronor. Hon handlar för 25 kronor.
Hur många kronor har Tea kvar?



Svar: _____

7. Tea har 8 kulor. Sam har dubbelt så många.
Hur många kulor har Sam?



Svar: _____

8. Rana, Sam och Mira har en påse med 9 äpplen.
De vill dela lika. Hur många äpplen får de var?



Svar: _____