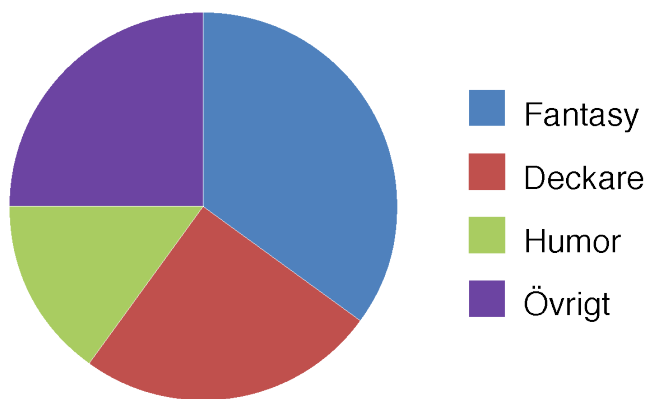




Namn: _____

1. Några elever i klass 5a har undersökt hur många olika slags böcker det finns i bokhyllan i klassrummet.



Titta på diagrammet och skriv färdigt meningarna.

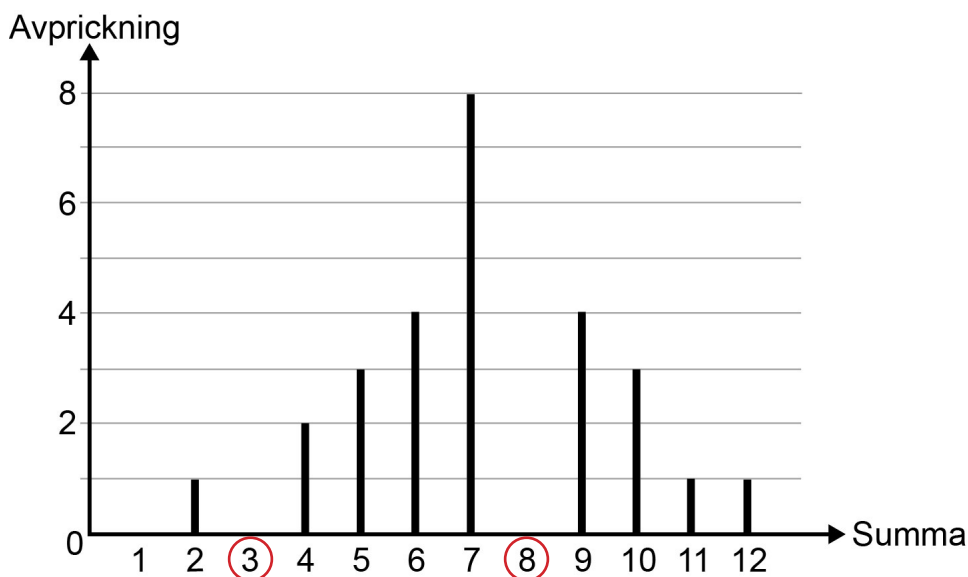
- a) Det finns störst andel _____
- b) Det finns minst andel _____
- c) Det finns _____ % deckare.

2. Vidar slår två tärningar. Han adderar det tärningarna visar och prickar av summan i ett protokoll.

Summa	Avprickning
2	I
3	II
4	II
5	III
6	IIII
7	III III
8	III
9	IIII
10	III
11	I
12	I



- a) Hur många gånger fick Vidar summan 10? Svar: _____
- b) Vilken var den vanligaste summan som Vidar fick? Svar: _____
- c) Hur många slag med tärningarna gjorde Vidar? Svar: _____
- d) Vidar har ritat ett diagram över sin undersökning. Gör färdigt diagrammet för summan 3 och summan 8.



3. Tabellen visar hur många kulor eleverna har.

Namn	Antal kulor
Anton	6
Marco	4
Anna	9
Vidar	11
Asta	5


a) Hur många kulor har de tillsammans?

Svar: _____

b) Hur många kulor har de i genomsnitt (medelvärde)?

Svar: _____

4. Asta spelar på lyckohjulet.



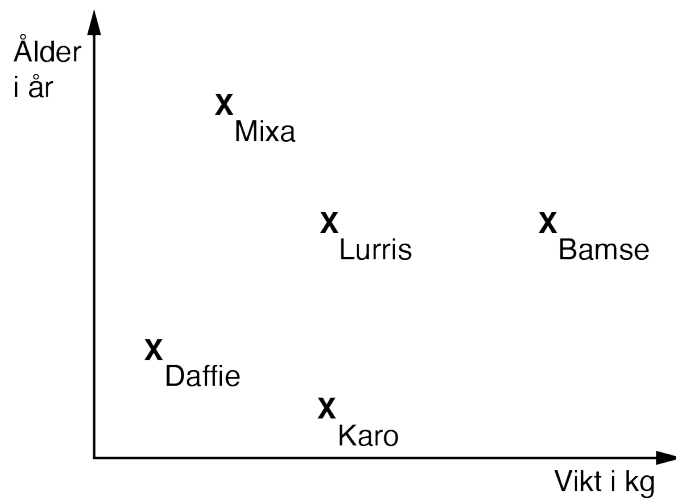
a) Vilken färg är det störst chans att få?

Svar: _____

b) Hur stor är chansen att få denna färg?

Svar: _____

5. Diagrammet visar ålder och vikt för några hundar.



Besvara frågorna med hjälp av diagrammet.

a) Vilken hund är äldst?

Svar: _____

b) Vilken hund väger minst?

Svar: _____

c) Vilka hundar är lika gamla?

Svar: _____