

Matematik

Delprov B

ÅRSKURS

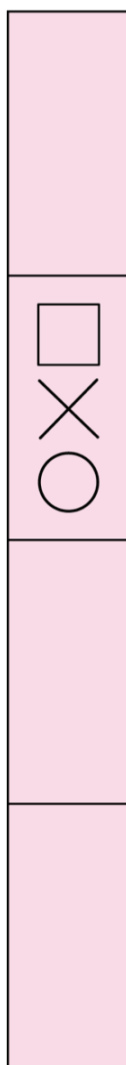
3

Elevens namn och klass/grupp

1. Upprepa mönstret.



2. Här är ett annat mönster.
Upprepa det mönstret.



3. Titta på raden med bokstäver.
Bokstäverna är ordnade efter ett visst mönster.

A A B C A A B C

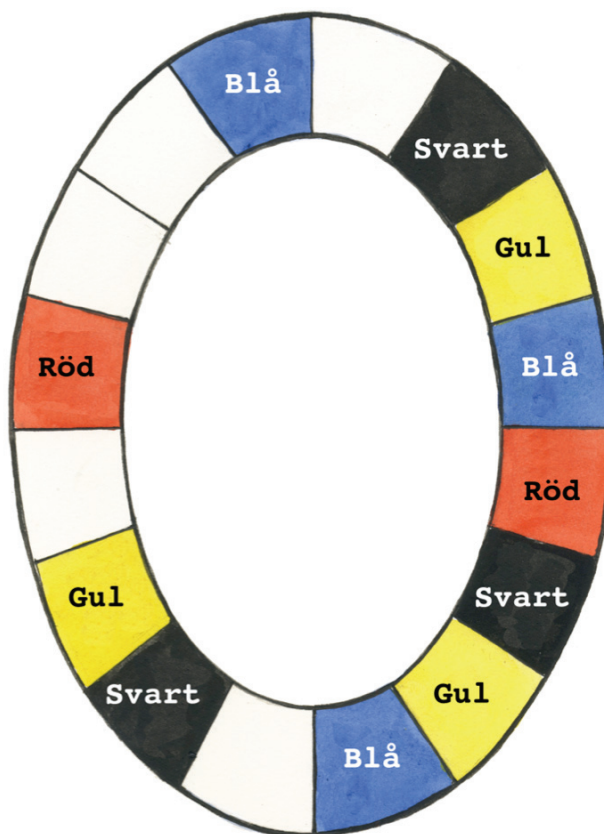
Här är tre andra mönster.

Ett av dem är ordnat på samma sätt som bokstäverna.

Ringa in det.



4. Här är ett mönster. I de vita fälten har färgerna försvunnit.
Fyll i de färger som saknas i mönstret.



5. Nova och Troj har hittat på ett hemligt språk med symboler i stället för bokstäver.

× Δ ×	betyder U
× × Δ	betyder O
Δ Δ ×	betyder S
Δ × Δ	betyder L
× Δ Δ	betyder M

- a) Skriv rätt bokstav på raden efter symbolerna.

× Δ Δ _____

× Δ × _____

Δ Δ × _____

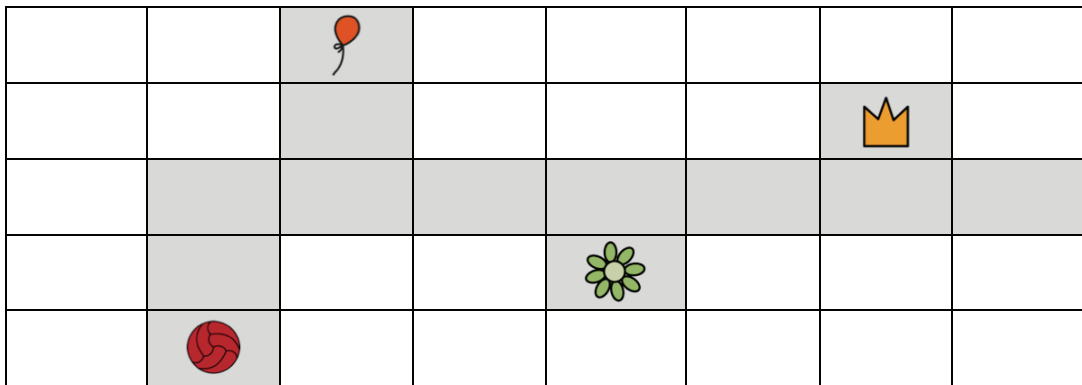
- b) Skriv ordet **SOL** med symbolerna.

_____ S

_____ O

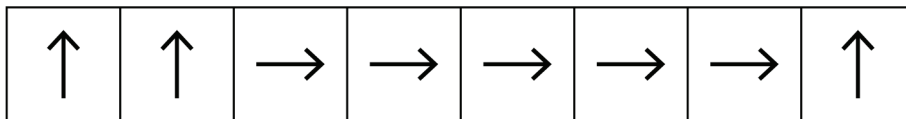
_____ L



6. Du ska gå till olika figurer. Du får bara gå i de grå rutorna.




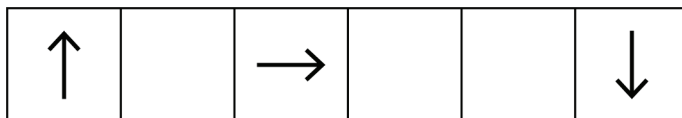
Du ska gå från  till .



Så här ser instruktionen ut för att gå till .





a) Nu ska du gå från  till .

Gör klart instruktionen så att du kommer till .

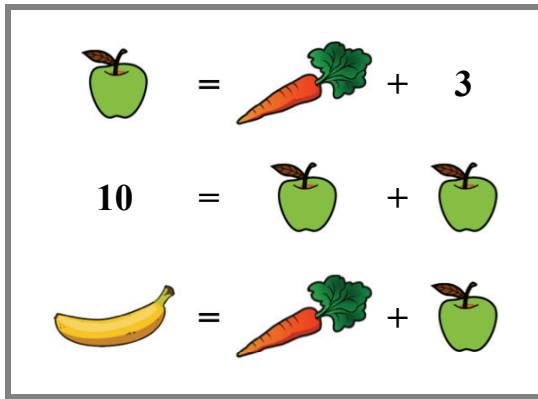


b) Sen går du från  till .

Gör klart instruktionen så att du kommer till .




7.



Vad är varje sak värd?

a)  = _____

b)  = _____

c)  = _____

8. Skriv tal på strecken så att likheterna stämmer.

a) $8 = 6 + \underline{\quad\quad} = \underline{\quad\quad} + 4$

b) $12 = \underline{\quad\quad} + \underline{\quad\quad} = \underline{\quad\quad} + 3$

